



いちごとバナナをならべてくらべよう。
あまったぶんがちがい(さ)です。



いちごが

5

つあります。

-

バナナが

3

つあります。

=

ちがいは

つです。

こたえ


ちがいは

つ

ちいさくいっぽ。



いちごが4つありました。バナナは3つあります。
ちがい(さ)はいくつですか。いちごとバナナをせんでつないで、ちがいをみつけよう!



いちごが

4

つあります。

-

バナナが

3

つあります。

=

ちがいは

つあります。

こたえ

ちがいは

つ


ちいさくいっぽ。

ちがいはいくつ?

がつ

にち

なまえ

 いちごが9つ ありました。バナナは4つ あります。
ちがい (さ) はいくつですか。いちごとバナナをせんでつないで、ちがいを みつけよう!



いちごが

バナナが

ちがいは

	—		=		

つあります。

つあります。

つ

こたえ

ちがいは

つ

 ちいさくいっぽ。




ちがいはいくつ?

がつ

にち

なまえ

 いちごが7つ ありました。バナナは4つ あります。
ちがい (さ) はいくつですか。いちごとバナナをせんでつないで、ちがいを みつけよう!



いちごが

バナナが

ちがいは

	—		=		

つあります。

つあります。

つ

こたえ

ちがいは

つ

 ちいさくいっぽ。

できたわ!

ちがいはいくつ?

がつ

にち

なまえ

いちごが8つありました。バナナは2つあります。
ちがい(さ)はいくつですか。
しきとこたえをかこう。



こたえ

ちがいは

つ

ちいさくいっぽ。



できたわ!

ちがいはいくつ?

がつ

にち

なまえ

チャレンジ!

□にいろをぬって、しきのこたえをだそう。

9	-	4	=		
---	---	---	---	--	--

こたえ

ちがいは

つ

9 →

--	--	--	--	--	--	--	--	--	--

4 →

--	--	--	--	--	--	--	--	--	--


ちいさくいっぽ。

ちがいはいくつ?

がつ にち

なまえ

いちごとバナナをならべてくらべよう。
あまったぶんがちがい(さ)です。



いちごが

5

つあります。

-

バナナが

3

つあります。

=

ちがいは

2

つです。

こたえ

ちがいは

2

つ


ちいさくいっぽ。

ちがいはいくつ?

がつ にち

なまえ

いちごが4つありました。バナナは3つあります。
ちがい(さ)はいくつですか。いちごとバナナをせんでつないで、ちがいをみつけよう!



いちごが

4

つあります。

-

バナナが

3

つあります。

=

ちがいは

1

つあります。

こたえ

ちがいは

1

つ

ちいさくいっぽ。

ちがいはいくつ?

がつ にち

なまえ

いちごが9つ ありました。バナナは4つ あります。
ちがい (さ) はいくつですか。いちごとバナナをせんでつないで、ちがいを みつけよう!



いちごが

バナナが

ちがいは

9	-	4	=	5
---	---	---	---	---

つあります。

つあります。

つ

こたえ

ちがいは

5

つ

ちいさくいっぽ。

ちがいはいくつ?

がつ にち

なまえ

いちごが7つ ありました。バナナは4つ あります。
ちがい (さ) はいくつですか。いちごとバナナをせんでつないで、ちがいを みつけよう!



いちごが

バナナが

ちがいは

7	-	4	=	3
---	---	---	---	---

つあります。

つあります。

つ

こたえ

ちがいは

3


つ

ちいさくいっぽ。

ちがいはいくつ?

がつ にち

なまえ

 いちごが 8 つ ありました。バナナは 2 つ あります。
ちがい (さ) は いくつ ですか。
しきと ことえを かこう。



8	-	2	=	6
---	---	---	---	---

ことえ

6

 つ
ちがいは

6

 つ


 ちいさくいっぽ。



ちがいはいくつ?

がつ にち

なまえ

 チャレンジ!
□に いろをぬって、しきの ことえを だそう。

9	-	4	=	5
---	---	---	---	---

ことえ

5

 つ
ちがいは

5

 つ



 ちいさくいっぽ。