

できだね!

のこりはいくつ?


がつ 日にち

なまえ



あめが5こありました。2こたべました。

いま、いくつのこっているかな? かずをかこう。



あめが

5

こあります。

-

2

こたべました。

=

こあります。

のこりは

こたえ

のこりは

こ

ちいさくいっぽ。



できだね!

のこりはいくつ?


がつ 日にち

なまえ



あめが4こありました。そのうち2こたべました。

いま、いくつのこっているかな? かずをかこう。



あめが

4

こあります。

-

こたべました。

=

こあります。

のこりは

こたえ

のこりは

こ

ちいさくいっぽ。

のこりはいくつ?


がつ 日にち

なまえ



あめが6こありました。2こたべました。

いま、いくつのこっているかな? かずをかこう。



あめが

のこりは

こたえ

のこりは

こ

こあります。

こたべました。

こ

ちいさくいっぱい。



のこりはいくつ?


がつ 日にち

なまえ



あめが7こありました。そのうち6こたべました。

いま、いくつのこっているかな? かずをかこう。



あめが

のこりは

こたえ

のこりは

こ

こあります。

こたべました。

こ

ちいさくいっぱい。

できだね!


のこりはいくつ?

なまえ

がつ 日にち

あめが8こありました。3こたべました。

いま、いくつのこっているかな? かずをかこう。



こたえ

 のこりは

 こ

ちいさくいっぽ。

できだね!


のこりはいくつ?

なまえ

がつ 日にち

チャレンジ! ヒントはなし!

あめが9こありました。4こたべました。いま、いくつのこっているかな? かずをかこう。



こたえ

 のこりは

 こ

ちいさくいっぽ。

のこりはいくつ?


なまえ

がつ 日にち



あめが5こありました。2こたべました。

いま、いくつのこっているかな? かずをかこう。



あめが

5

こあります。

-

2

こたべました。

=

のこりは

3

こあります。

こたえ

のこりは

3

こ

ちいさくいっぽ。



のこりはいくつ?


なまえ

がつ 日にち



あめが4こありました。そのうち2こたべました。

いま、いくつのこっているかな? かずをかこう。



あめが

4

こあります。

-

2

こたべました。

=

のこりは

2

こあります。

こたえ

のこりは

2

こ


ちいさくいっぽ。

のこりはいくつ?

なまえ

がつ 日にち

あめが6こありました。2こたべました。
いま、いくつのこっているかな? かずをかこう。



あめが

のこりは

6	-	2	=	4
---	---	---	---	---

こあります。

こたべました。

こ

こたえ

のこりは

4

こ


ちいさくいっぽ。

のこりはいくつ?

なまえ

がつ 日にち

あめが7こありました。そのうち6こたべました。
いま、いくつのこっているかな? かずをかこう。



あめが

のこりは

7	-	6	=	1
---	---	---	---	---

こあります。

こたべました。

こ

こたえ

のこりは

1

こ


ちいさくいっぽ。

のこりはいくつ?

がつ 日にち

なまえ

あめが8こありました。3こたべました。
いま、いくつのこっているかな? かずをかこう。



$$8 - 3 = 5$$

こたえ
のこりは 5 こ


ちいさくいっぽ。

のこりはいくつ?

がつ 日にち

なまえ

チャレンジ! ヒントはなし!
あめが9こありました。4こたべました。いま、いくつ
のこっているかな? かずをかこう。



$$9 - 4 = 5$$

こたえ
のこりは 5 こ

ちいさくいっぽ。