



 **ことりが3わいます。** **あとから2わきました。**
 ぜんぶでなんわいますか。




もともといた **あとからふえた** ふえたらぜんぶで



$$\begin{array}{|c|} \hline 3 \\ \hline \end{array} + \begin{array}{|c|} \hline 2 \\ \hline \end{array} = \begin{array}{|c|} \hline \\ \hline \end{array}$$

こたえ
 ぜんぶで わ

 ちいさくいっぽ。



 **ことりが4わいます。** **あとから1わきました。**
 ぜんぶでなんわいますか。




もともといた **あとからふえた** ふえたらぜんぶで

$$\begin{array}{|c|} \hline 4 \\ \hline \end{array} + \begin{array}{|c|} \hline 1 \\ \hline \end{array} = \begin{array}{|c|} \hline \\ \hline \end{array}$$

こたえ
 ぜんぶで わ

 ちいさくいっぽ。

✎ ことりが3わいます。あとから4わきました。
ぜんぶでなんわいますか。



もともといた あとからふえた ふえたらぜんぶで

	+		=	
--	---	--	---	--

こたえ


ぜんぶで

 わ

✎ ちいさくいっぽ。



✎ ことりが2わいます。あとから4わきました。
ぜんぶでなんわいますか。



--	--	--	--	--

こたえ

ぜんぶで

 わ

✎ ちいさくいっぽ。

できだね!



ふえるといくつ

がつ

にち

なまえ

ことりが6わいます。あとから3わきました。
ぜんぶでなんわいますか。



こたえ

ぜんぶで

わ

ちいさくいっぱい。



できだね!


ふえるといくつ

がつ

にち

なまえ

チャレンジ! じゆうにことりをふやそう。
ことりのえをかいて、しきをかこう。



もともといた あとからふえた ふえたらぜんぶで

	+		=	



こたえ

ぜんぶで

わ

ちいさくいっぱい。

✏️ **ことりが3わいます。** **あとから2わきました。**
 ぜんぶでなんわいますか。





もともといた **あとからふえた** ふえたらぜんぶで

$$3 + 2 = 5$$

こたえ ぜんぶで **5** わ

✏️ **ことりが4わいます。** **あとから1わきました。**
 ぜんぶでなんわいますか。




もともといた **あとからふえた** ふえたらぜんぶで

$$4 + 1 = 5$$

こたえ ぜんぶで **5** わ

✏️ ことりが3わいます。あとから4わきました。
ぜんぶでなんわいますか。




もともといた あとからふえた ふえたらぜんぶで

$$3 + 4 = 7$$

こたえ ぜんぶで 7 わ

✏️ ちいさくいっぽ。

✏️ ことりが2わいます。あとから4わきました。
ぜんぶでなんわいますか。




$$2 + 4 = 6$$

こたえ ぜんぶで 6 わ

✏️ ちいさくいっぽ。

✎ ことりが6わいます。あとから3わきました。
ぜんぶでなんわいますか。



6 + 3 = 9



こたえ ぜんぶで 9 わ

✎ ちいさくいっぱい。



✎ チャレンジ! じゆうにことりをふやそう。
ことりのえをかいて、しきをかこう。

例



もともといた あとからふえた ふえたらぜんぶで

4 + 4 = 8

こたえ ぜんぶで 8 わ

✎ ちいさくいっぱい。