


あといくつで 10

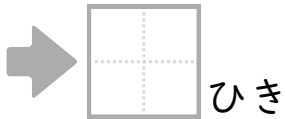
なまえ

がつ にち

まずは 7 ひきぬってみよう。



7 ひきぬったらのこりはなんひき？



ぬったくまと、ぬってないくまをあわせてなんひき？



ちいさくいっぽ。




あといくつで 10


なまえ

がつ にち

まずは 8 ひきぬってみよう。



8 ひきぬったらのこりはなんひき？



ぬったくまと、ぬってないくまをあわせてなんひき？




ちいさくいっぽ。

あといくつで 10

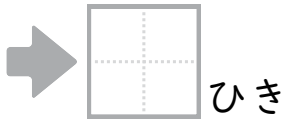
なまえ

がつ にち

まずは 6ひき ぬってみよう。



6ひき ぬったら のこりは なんひき？



ぬった うさぎと、ぬってない うさぎを あわせて なんひき？



ちいさくいっぽ。




あといくつで 10


なまえ

がつ にち

まずは 5ひき ぬってみよう。



5ひき ぬったら のこりは なんひき？



ぬった かえると、ぬってない かえるを あわせて なんひき？



ちいさくいっぽ。

あといくつで 10

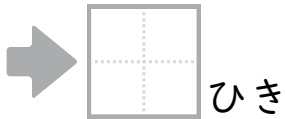
がつ にち

なまえ

✏️ まずは 9 ひきぬってみよう。



✏️ 9 ひきぬったらのこりはなんひき？



✏️ ぬったうさぎと、ぬってないうさぎをあわせてなんひき？



✏️ ちいさくいっぽ。



あといくつで 10

がつ にち

なまえ

✏️ あわせて 10 になる すうじを せんで つなごう。

8 9 5 6 7
● ● ● ● ●

● ● ● ● ●
1 3 5 2 4


✏️ ちいさくいっぽ。

あといくつで 10

なまえ

がつ にち

まずは 7 ひきぬってみよう。



7 ひきぬったらのこりはなんひき？

➡ 3 ひき

ぬったくまと、ぬってないくまをあわせてなんひき？

➡ 1 0 ひき


ちいさくいっぽ。

あといくつで 10

なまえ

がつ にち

まずは 8 ひきぬってみよう。



8 ひきぬったらのこりはなんひき？

➡ 2 ひき

ぬったくまと、ぬってないくまをあわせてなんひき？

➡ 1 0 ひき


ちいさくいっぽ。

あといくつで 10

なまえ

がつ にち

まずは 6ひき ぬってみよう。



6ひき ぬったら のこりは なんひき？

➡ 4 ひき

ぬった うさぎと、ぬってない うさぎを あわせて なんひき？

➡ 1 0 ひき

ちいさくいっぽ。




あといくつで 10

なまえ

がつ にち

まずは 5ひき ぬってみよう。



5ひき ぬったら のこりは なんひき？

➡ 5 ひき

ぬった かえると、ぬってない かえるを あわせて なんひき？

➡ 1 0 ひき


ちいさくいっぽ。

あといくつで 10

なまえ

がつ にち

まずは 9 ひきぬってみよう。



9 ひきぬったらのこりはなんひき？

➡

1

 ひき

ぬったうさぎと、ぬってないうさぎをあわせてなんひき？

➡

1	0
---	---

 ひき

ちいさくいっぽ。

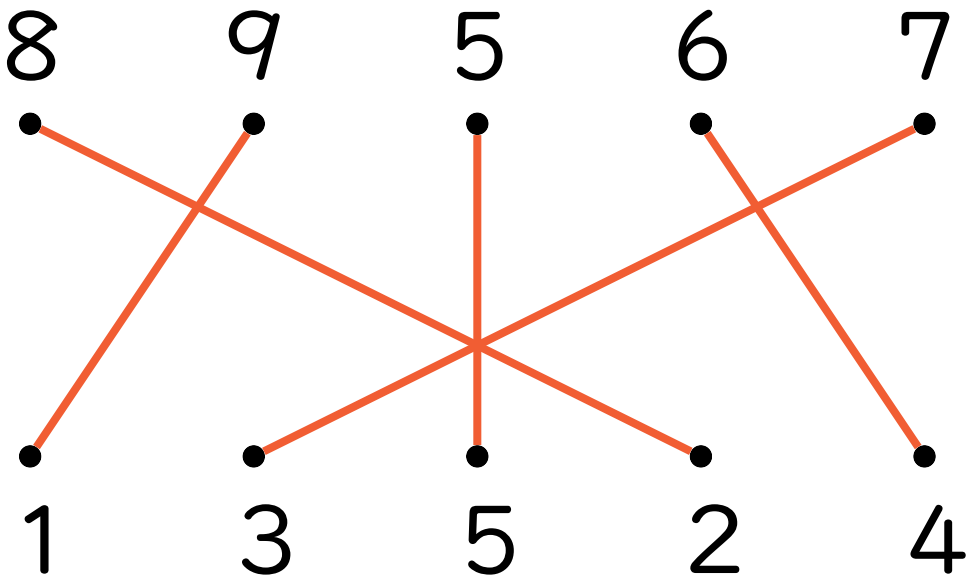


あといくつで 10

なまえ

がつ にち

あわせて 10 になる すうじを せんで つなごう。



ちいさくいっぽ。